







Решение задач

умение	задание	Свой выбор 	Выбор в паре 	Оценка ученика по шкалам				
				умение	правильность			
1. Умение читать задачу	<p style="text-align: center;">Подумай, является ли данный текст задачей?</p> <p style="text-align: center;">Мама заготовила на зиму 8 банок компота из яблок, 4 банки компота из слив и 6 банок компота из клубники</p> <hr/> <hr/> <hr/>	<p>А)да Б)нет</p>	<p>А)да Б)нет</p>		<table border="1" style="width: 100px; height: 100px;"> <tr><td> </td></tr> <tr><td> </td></tr> <tr><td> </td></tr> </table>			
2. Умение работать со схемой.	<p style="text-align: center;">Выбери схему:</p> <p>А) Я. _____ К. _____ С. _____</p> <p>Б) Я. _____ С. _____ К. _____</p>	<p>А) Б)</p>	<p>А) Б)</p>					
3. Умение записывать решение	<p style="text-align: center;">Подумай, является ли данная запись решением задачи, если нет, запиши верное решение.</p> <p style="text-align: center;">$6+4+8=18$ (к.)</p>	<p>А)да Б)нет</p>	<p>А)да Б)нет</p>					

Решение задач

умение	задание			Оценка ученика	
				умение	правильность
1. Умение читать задачу	<p>Подумай, является ли данный текст задачей ?</p> <hr/> <p>У причала стояло 10 маленьких лодок, а больших на 2 больше. Сколько маленьких лодок стояло у причала?</p>	<p>А)да Б)нет</p>	<p>А)да Б)нет</p>		
2.Умение работать со схемой.	<p>Выбери схему :</p> <p>А) М. л. _____ Б. л. _____</p> <p>Б) М. л. _____ Б. л. _____</p>	<p>А) Б)</p>	<p>А) Б)</p>		
3.Умение записывать решение	<p>Подумай, будет ли это выражение решением данной задачи, если нет, запиши верное.</p> <p>10+2=12 (л.)</p> <hr/>	<p>А)да Б)нет</p>	<p>А)да Б)нет</p>		

Решение задач

умение	задание			Оценка ученика	
				умение	правильность
1. Умение читать задачу	<p>Подумай, является ли данный текст задачей, если нет, внеси изменения.</p> <hr/> <p>В автобусе _____ мест. Детьми занято ___ мест. Взрослыми занято __ мест. Сколько свободных мест в атобусе?</p>	<p>А)да Б)нет</p>	<p>А)да Б)нет</p>		
	<p>2.Умение работать со схемой.</p> <p>Выбери схему :</p> <p>А) _____</p> <p>Б) _____</p>	<p>А) Б)</p>	<p>А) Б)</p>		
3.Умение записывать решение задачи	<p>Подумай, будет ли это выражение решением данной задачи, если нет, запиши верное.</p> <p>12+8=20 (м.)- взрослыми и детьми</p> <p>_____</p>	<p>А)да Б)нет</p>	<p>А)да Б)нет</p>		

