

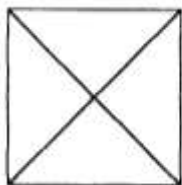
1. Найди и зачеркни лишнее в каждой строке.

1, 9, 4, 14, 6, 2.

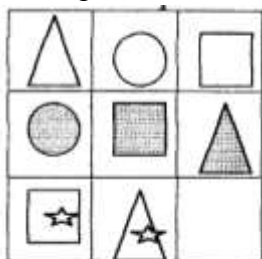
15, 11, 18, 14, 35.

17, 35, 56, 62, 44

2. Сколько всего треугольников?



3. Найди закономерность и заполни таблицу.



4. Реши задачу:

На столе стояло 3 стакана с ягодами. Вова съел 1 стакан ягод и поставил его на стол.

Сколько стаканов осталось на столе?

Ответ: _____

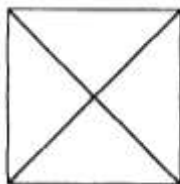
1. Найди и зачеркни лишнее в каждой строке.

1, 9, 4, 14, 6, 2.

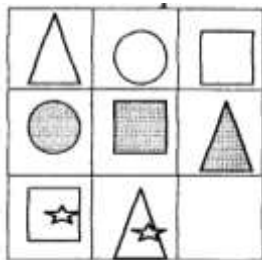
15, 11, 18, 14, 35.

17, 35, 56, 62, 44

2. Сколько всего треугольников?



3. Найди закономерность и заполни таблицу.



4. Реши задачу:

На столе стояло 3 стакана с ягодами. Вова съел 1 стакан ягод и поставил его на стол.

Сколько стаканов осталось на столе?

Ответ: _____